



Septembre 2011

CPI 317

Exercices

Table des matières

1 - Séries Numériques	3
1 - 1 Séries à termes positifs	3
1 - 2 Séries quelconques	4
1 - 3 Autres exercices	5
2 - Espaces Vectoriels Normés	7
2 - 1 Normes	7
2 - 2 Autres exercices	7
3 - Continuité	9
3 - 1 Exercices basiques	9
3 - 2 Autres exercices	10
4 - Suites et Séries de Fonctions	11
4 - 1 Suites de fonctions	11
4 - 2 Séries de fonctions	12
5 - Séries Entières	13
5 - 1 Rayon de convergence	13
5 - 2 Fonction somme	13
5 - 3 Développement en série entière	14
5 - 4 Applications	14
5 - 5 Autres exercices	15
6 - Intégrales convergentes et fonctions intégrables	16
7 - Annales	18
8 - Liens	33
9 - Rappels : Développements limités	34

1 - Séries Numériques

Exercice 1. Soit $(u_n)_{n \geq 0}$ une suite de \mathbb{K} . Montrer que si $\sum_{p \geq 0} u_{2p}$ converge, et $\sum_{p \geq 0} u_{2p+1}$ diverge, alors $\sum_{n \geq 0} u_n$ diverge.

Exercice 2. Montrer que la série $\sum_{n \geq 0} \sin(n)$ diverge.

1 - 1 Séries à termes positifs

Exercice 3. Etudier la convergence et calculer la somme des séries :

1 $\sum_{n \geq 1} \frac{1}{n(n+1)}$, 2 $\sum_{n \geq 2} \ln\left(1 - \frac{1}{n^2}\right)$, 3 $\sum_{n \geq 3} \frac{2n-1}{n(n^2-4)}$,

Exercice 4. 1 Montrer que $\frac{1}{3} = 0.333\ 333\ 333 \dots$
2 Calculer le réel $\alpha = 0.102\ 102\ 102 \dots$

Exercice 5. Etudier la convergence des séries :

1 $\sum \frac{1}{1 + \sqrt{n}}$, 2 $\sum \sqrt{\frac{n^2-1}{n^5+5}}$, 3 $\sum e^{-n^a}$.

Exercice 6. Soit f la fonction définie sur $] -1, +\infty[$ par $f(x) = \ln(1+x)$. Ecrire la formule de Mac-Laurin pour f . Etudier la convergence, et calculer éventuellement la somme de la série

$$\sum_{n \geq 1} (-1)^{n-1} \frac{1}{n}.$$

Exercice 7. Etudier la nature de la suite $(u_n)_{n \in \mathbb{N}^*}$, où $u_n = 1 + \frac{1}{2} + \dots + \frac{1}{n} - \ln n$.

Exercice 8. (voir H-Prepa 13)

Pour tout entier k on pose : $u_k = \frac{3}{2^{2k+3} + 5k + 2}$.

1 En majorant u_k par le terme général d'une série géométrique montrer que $\sum u_k$ est convergente. On note R_n le reste d'ordre n de cette série.

2 Trouver n tel que $|R_n| \leq 10^{-2}$.

3 Sans faire les calculs, donner l'expression d'une valeur approchée à 10^{-2} près de $\sum_{k=0}^{+\infty} u_k$.

H-Prépa : Lire exercice 6.

H-Prépa : exercice 10.

Exercice 9. Séries de Bertrand

Etant donnés deux réels a et b , on considère la série

$$\sum_{n \geq 2} \frac{1}{n^a (\ln n)^b}.$$

1 On suppose $a = 1$. En utilisant le théorème de comparaison avec une intégrale, montrer que la série converge si et seulement si $b > 1$. **2** On suppose $a \neq 1$. En comparant cette série à une série de Riemann, montrer qu'elle converge si et seulement si $a > 1$.

Exercice 10. **1** H-Prepa 11

2 Montrer que $\sum_{k=1}^n \frac{1}{\sqrt{k}} \sim 2\sqrt{n}$

Exercice 11. Déterminer la nature des séries de terme général

$$\frac{\ln n}{\sqrt{n^3 + n - 1}}, \quad \frac{(n!)^3}{n^{n^2}}, \quad \frac{n^2}{\sqrt{(n-1)!}}, \quad \frac{(n!)^2}{(2n)!}, \quad \left(1 - \frac{1}{\ln n}\right)^n, \quad \frac{n^n}{2n^2}.$$

1 - 2 Séries quelconques

Exercice 12. On considère les séries suivantes de terme général noté u_n . Dire, en le justifiant, si elles sont convergentes, divergentes ou si on ne peut pas déterminer leur nature.

1 $u_n = \frac{(-1)^n}{\sqrt{n}} + O\left(\frac{1}{n^2}\right)$ **2** $u_n = \frac{(-1)^n}{\sqrt{n}} + o\left(\frac{1}{n^{\frac{3}{2}}}\right)$

3 $u_n = \frac{(-1)^n}{\sqrt{n}} + O\left(\frac{1}{n}\right)$ **4** $u_n = \frac{1}{\sqrt{n}} + o\left(\frac{1}{\sqrt{n}}\right)$

H-Prépa : exercice 16 .

Exercice 13. **1** La série $\sum_{n \geq 0} \frac{(-1)^n}{\sqrt{3 + 2n^2}}$ est-elle convergente ? absolument convergente ? **2** Pour quelles valeurs du réel a , la série $\sum_{n \geq 0} \frac{a^n}{1 + n^2}$ est-elle absolument convergente ? convergente ? divergente ? **3** Pour quelles valeurs du réel $\alpha > 0$, la série $\sum_{n \geq 0} (-1)^n \left(1 - \cos\left(\frac{1}{n^\alpha}\right)\right)$ est-elle absolument convergente ? convergente mais non absolument convergente ?

Exercice 14. Déterminer la nature de la série de terme général

$$\ln\left(1 + \frac{(-1)^n}{n^\alpha}\right), \quad \alpha \in \mathbb{R}_+^*.$$

Exercice 15. Déterminer la nature des séries de terme général

$$\ln\left(\frac{n^2 + n + 1}{n^2 + n - 1}\right), \quad \frac{1}{n + (-1)^n \sqrt{n}}, \quad \sqrt{n^3 + n + 1} - \sqrt{n^3 + n - 1}, \quad e - \left(1 + \frac{1}{n}\right)^n.$$

Exercice 16. Déterminer la nature des séries de terme général

$$\frac{(-1)^n}{\sqrt{n + (-1)^n}}, \quad \frac{(-1)^n}{\sqrt{n}} \cos\left(\frac{1}{n}\right), \quad \frac{(-1)^n}{n - \ln n}, \quad \frac{(-1)^n \sqrt{n} \sin\left(\frac{1}{\sqrt{n}}\right)}{\sqrt{n} + (-1)^n}, \quad \frac{(-1)^n}{(\ln n + (-1)^n)^2}, \quad \frac{(-1)^n}{n \sqrt[n]{n}}.$$

H-Prépa : 17.

Exercice 17. 1 Déterminer les réels a et b tels que la série de terme général $u_n = (n^3 + n^2 + n + 1)^{\frac{1}{3}} - (n^2 + 1)^{\frac{1}{2}} + a + \frac{b}{n}$ soit convergente.

2 Déterminer les polynômes $P \in \mathbb{R}[X]$ tels que $u_n = \sqrt[4]{n^4 + 3n^2} - \sqrt[3]{P(n)}$ soit le terme général d'une série convergente.

H-Prépa : 19.

1 - 3 **Autres exercices**

Exercice 18. Soit $\sum u_n$ une série convergente à termes positifs de la forme $u_n = f(n)$ avec f décroissante, continue par morceaux. Montrer que

$$\lim_{N \rightarrow +\infty} \int_{n+1}^{N+1} f(t) dt \leq R_n \leq \lim_{N \rightarrow +\infty} \int_n^N f(t) dt$$

H-Prépa : 20.

Exercice 19. (Examen 2008)

Pour tout entier n on pose :

$$a_n = \frac{2^{2n}(n!)^2}{(2n+1)!}, \quad w_n = (-1)^n a_n$$

1 Montrer que $(a_n)_n$ est une suite décroissante.

2 Quelle est la nature de la série $\sum_{n \geq 1} v_n$ où $v_n = -\ln\left(\frac{a_n}{a_{n-1}}\right)$. En déduire la nature de la suite $(\ln(a_n))_n$ puis de la suite $(a_n)_n$.

3 En déduire la nature de $\sum_{n \geq 1} w_n$.

Exercice 20. (Deug Partie I 2004) *Etude d'une série dont le terme général est le reste d'une série convergente*

Soit n_0 un entier naturel fixé. Soit $\sum_{n \geq n_0} a_n$ une série numérique convergente. On définit pour n entier naturel

supérieur ou égal à n_0 , r_n son reste de rang n : $r_n = \sum_{k=n+1}^{+\infty} a_k$.

1 Cas 1 : On pose pour $n \geq 0$, $a_n = \frac{1}{2^n}$.

Calculer r_n puis montrer que $\sum_{n \geq n_0} r_n$ converge et calculer sa somme.

2 Cas 2 : On pose pour $n \geq 1$, $a_n = \frac{1}{n^2}$.

a Montrer que pour tout entier naturel non nul n on a :

$$\frac{1}{n+1} \leq r_n \leq \frac{1}{n+1} + \frac{1}{(n+1)^2}$$

b Donner alors un équivalent de (r_n) lorsque n est au voisinage de $+\infty$.

Que peut-on en conclure sur la nature de la série $\sum_{n \geq 1} r_n$.

3 Cas 3 : On pose pour $n \geq 1$, $a_n = \frac{(-1)^n}{n}$.

a Justifier la convergence de $\sum_{n \geq 1} a_n$.

b Soit n un entier naturel non nul. On définit la suite (I_n) par $I_n = (-1)^n \int_0^1 \frac{x^n}{1+x} dx$.

– Montrer que $\lim_{n \rightarrow +\infty} I_n = 0$.

– Montrer que $I_n = \ln 2 + \sum_{k=1}^n \frac{(-1)^k}{k}$. (*indication : calculer $\sum_{k=0}^{n-1} (-x)^k$*).

– En déduire la valeur $\sum_{k=1}^{+\infty} \frac{(-1)^k}{k}$, puis exprimer r_n en fonction de I_n .

c En utilisant une intégration par parties, montrer que :

$$I_n = \frac{(-1)^n}{a(n+1)} + O\left(\frac{1}{n^\alpha}\right)$$

où a et $\alpha > 1$ sont des réels à déterminer.

d En déduire la nature de la série $\sum_{n \geq 1} r_n$.

2 - Espaces Vectoriels Normés

2 - 1 Normes

Exercice 21. Normes sur un produit fini de \mathbb{K} -evn.

Soient $n \in \mathbb{N}^*$, $(E_k, N_k)_{1 \leq k \leq n}$ des \mathbb{K} -evn, $E = \prod_{k=1}^n E_k$. Considérons pour tout $x = (x_1, \dots, x_n)$ de E les réels

$\|x\|_1, \|x\|_2, \|x\|_\infty$ définis par :

$$\|x\|_1 = \sum_{k=1}^n N_k(x_k), \quad \|x\|_2 = \left[\sum_{k=1}^n (N_k(x_k))^2 \right]^{\frac{1}{2}}, \quad \|x\|_\infty = \max_{1 \leq k \leq n} N_k(x_k).$$

Montrer que les applications $\|\cdot\|_1, \|\cdot\|_2, \|\cdot\|_\infty$ sont des normes sur E .

Exercice 22. Les applications suivantes sont-elles des normes sur E ?

1 $E = \mathbb{R}^2$: $(x, y) \mapsto |5x + 3y|, \quad (x, y) \mapsto \sqrt{x^2 + xy + 2y^2}$

2 $E = \mathcal{C}^1([0, 1]; \mathbb{R})$: $f \mapsto |f(0)| + \int_0^1 |f'(t)| dt, \quad g \mapsto \int_0^1 |g'(t)| dt.$

Exercice 23. $E = \{f \in \mathcal{C}^1([0, 1]; \mathbb{R}) ; f(0) = 0\}$. On note $N_\infty(f) = \sup_{t \in [0, 1]} |f(t)|$ et $N'_\infty(f) = \sup_{t \in [0, 1]} |f'(t)|$.

Montrer que ce sont des normes sur E mais pas équivalentes.

Exercice 24. Soient $(a, b) \in \mathbb{R}^2$ tels que $a < b$, et $E = \mathcal{C}([a, b], \mathbb{R})$. On considère les normes $\|\cdot\|_1, \|\cdot\|_2$, et $\|\cdot\|_\infty$ définies par :

$$\|f\|_1 = \int_a^b |f(t)| dt, \quad \|f\|_2 = \left[\int_a^b |f(t)|^2 dt \right]^{\frac{1}{2}}, \quad \|f\|_\infty = \sup_{t \in [a, b]} |f(t)|.$$

1 Montrer que $\forall f \in E$ $\|f\|_1 \leq (b-a)^{\frac{1}{2}} \|f\|_2$ et $\forall f \in E$ $\|f\|_2 \leq (b-a)^{\frac{1}{2}} \|f\|_\infty$.

2 Démontrer que $\|\cdot\|_1, \|\cdot\|_2, \|\cdot\|_\infty$ sont deux à deux non équivalentes.

H-Prépa : lire exercice 15.

H-Prépa : exercice 16 (dernière question à lire)

H-Prépa : exercices 3, 4.

2 - 2 Autres exercices

Exercice 25. Ouvert ou fermé ?

1 $]0, 1[$ dans \mathbb{R}^2 a \mathbb{Q} dans \mathbb{R} 2 $\{(x, y)/xy = 1\}$ dans \mathbb{R}^2

Exercice 26. Soit A une partie non vide majorée de \mathbb{R} . Montrer que $\sup A \in \bar{A}$.

H-Prépa : exercices 8, 11, 20.

Exercice 27. (DS 2006)

1 Soit E un espace vectoriel sur \mathbb{R} ou sur \mathbb{C} .

Quelle est la définition d'une norme N définie sur E ?

2 Dans la suite $E = \mathcal{M}_{n \times n}(\mathbb{R})$.

On considère la base canonique \mathcal{B} de E formée des matrices B_{ij} ne possédant qu'un élément non nul situé sur la $i^{\text{ème}}$ ligne et la $j^{\text{ème}}$ colonne.

On note m_{ij} les composantes d'une matrice M dans cette base.

On considère les applications N et $\|\cdot\|$ définies sur E par :

$$N(M) = n \max_{1 \leq i, j \leq n} |m_{ij}| \quad \text{et} \quad \|M\| = \max_{1 \leq i, j \leq n} |m_{ij}|.$$

a Montrer que N et $\|\cdot\|$ sont des normes sur E .

b Montrer que :

$$\forall A \in E \quad \forall B \in E \quad N(AB) \leq N(A) N(B).$$

c N et $\|\cdot\|$ sont-elles équivalentes ?

3 Soit A une matrice carrée d'ordre n à coefficients réels. On considère la suite de matrices

$$\left(\sum_{k=0}^n \frac{1}{k!} A^k \right)_{n \geq 0}$$

a Montrer que c'est une suite de Cauchy pour N .

b En déduire qu'elle converge pour N . On note e^A sa limite.

c Converge-t-elle pour $\|\cdot\|$? Si oui, quelle est sa limite ?

d Comment faire pour calculer e^A à partir des composantes de A ?

4 Application 1 : Expliciter e^A dans le cas $A = \begin{pmatrix} 1 & 0 \\ 0 & 1 \end{pmatrix}$

5 Application 2 : Soit θ un réel fixé. Expliciter e^B dans le cas $B = \begin{pmatrix} 0 & -\theta \\ \theta & 0 \end{pmatrix}$.

3 - Continuité

3 - 1 Exercices basiques

H-Prépa : exercice 2, Application 2.

Exercice 28. Etudier la continuité de l'application $g : \mathbb{C} \rightarrow \mathbb{C}$ définie par : $g(z) = z^n$

Exercice 29. Déterminer si les applications suivantes sont continues sur leur ensemble de définition :

- 1 $f : \mathbb{R}^3 \rightarrow \mathbb{R}^2$ définie par : $f(x, y, z) = \left(\frac{x \sin y}{y}, z + y^2 \right)$ si $y \neq 0$, et $f(x, 0, z) = (x, z)$.
- 2 $g : \mathbb{R}^2 \rightarrow \mathbb{R}$ définie par : $g(x, y) = \left(\frac{x \sin xy}{x^2 + y^2} \right)$ si $(x, y) \neq (0, 0)$, et $g(0, 0) = 0$.

Exercice 30. Montrer que l'application $h : \mathbb{R}^2 \rightarrow \mathbb{R}$ définie par : $h(x, y) = \left(\frac{\tan xy}{x^2 + y^2} \right)$ si $(x, y) \neq (0, 0)$, et $h(0, 0) = 0$ n'est pas continue en $(0, 0)$.

Exercice 31. Soit u une application continue $u : \mathbb{R} \rightarrow \mathbb{R}$. Les ensembles suivants sont-ils ouverts ? fermés ?

- 1 $\{(x, y) \in \mathbb{R}^2 / y \geq u(x)\}$,
- 2 $\{(x, y) \in \mathbb{R}^2 / y < u(x)\}$.

Exercice 32. Représenter graphiquement les parties suivantes de \mathbb{R}^2 et, pour chacune d'elle dire si elle est ouverte, fermée, ou bien ni ouverte ni fermée.

- 1 $\{(x, y) \in \mathbb{R}^2 / |x| \neq 1 \text{ et } |y| \neq 1\}$,
- 2 $\{(x, y) \in \mathbb{R}^2 / 1 - xy > 0\}$.

Exercice 33. Les ensembles suivants sont-ils fermés ? bornés ?

- 1 $\{(x, y) \in \mathbb{R}^2 / x^4 + 3y^6 = 1\}$,
- 2 $\{(x, y) \in \mathbb{R}^2 / x^2 + y^3 = 1\}$.

H-Prépa : Application 5. Exercices 9, 10c).

H-Prépa : Exercice résolu 2 p. 88 : 1) et 2).

Exercice 34. (Examen 2009)

Soit $n \in \mathbb{N}^*$. Soient B et C deux éléments de $\mathcal{M}_{n \times n}(\mathbb{R})$, l'ensemble des matrices carrées d'ordre n à coefficients réels.

- 1 Montrer que l'application g définie sur $\mathcal{M}_{n \times n}$ par : $g(M) = BMC$ est continue sur $\mathcal{M}_{n \times n}$.

Dans la suite de l'exercice on considère $n = 3$.

- 2 Soit k un entier non nul. Soit M_k la matrice de $\mathcal{M}_{3 \times 3}$ définie par :

$$M_k = \begin{pmatrix} \left(-\frac{1}{2}\right)^k & 0 & 0 \\ 0 & e^{-2k} & 0 \\ 0 & 0 & 1 \end{pmatrix}$$

Montrer que la suite $(M_k)_k$ converge. Déterminer sa limite.

- 3 Montrer que la suite $(BM_kC)_k$ converge. Déterminer sa limite.

Exercice 35. (Examen 2008)

1 Montrer que la fonction $f : (x, y, z) \mapsto (x^2 + y^2, \sin(xyz))$ est continue sur \mathbb{R}^3 .

2 Soit A une matrice carrée d'ordre n à coefficients réels. On note $\langle \cdot, \cdot \rangle$ le produit scalaire euclidien sur \mathbb{R}^n .

Montrer que l'application $h : \mathbb{R}^n \times \mathbb{R}^n \rightarrow \mathbb{R}$ définie par $h(u, v) = \langle Au, v \rangle$ est continue sur $\mathbb{R}^n \times \mathbb{R}^n$.

Exercice 36. (Examen 2008)

Soient $E = \mathcal{C}([0, 1])$ l'espace vectoriel des fonctions continues sur $[0, 1]$, à valeurs réelles, et l'application de E dans \mathbb{R} telle que :

$$f \in E \mapsto \|f\| = \sup_{x \in [0, 1]} |f(x)| .$$

1 Démontrer (convenablement) que $\|\cdot\|$ est une norme sur E .

On munit E de cette norme.

Soit ϕ l'application de E dans \mathbb{R} telle que :

$$f \in E \mapsto \phi(f) = f(0) .$$

2 Démontrer que ϕ est une forme linéaire continue sur l'espace normé E .

3 Démontrer que $\text{Ker } \phi = \{f \in E ; \phi(f) = 0\}$ est un sous-espace fermé de E .

3 - 2 Autres exercices

Exercice 37. Soient Φ une application continue de \mathbb{R}^3 dans \mathbb{R} , et u une application continue de \mathbb{R} dans \mathbb{R} . Montrer que $y \mapsto \Phi(x, y, u(y))$ est continue de \mathbb{R} dans \mathbb{R} .

Exercice 38. Soient $f : \mathbb{R} \rightarrow \mathbb{R}$ et $g : \mathbb{R} \rightarrow \mathbb{R}$. On considère $h : \mathbb{R}^2 \rightarrow \mathbb{R}$ l'application définie par : $h(x, y) = f(x) + g(y)$. Soit $(a, b) \in \mathbb{R}^2$.

1 Montrer que si f est continue en a et si g est continue en b , alors h est continue en (a, b) .

2 On suppose que h est continue en (a, b) . L'application f est-elle continue en a ? g est-elle continue en b ?

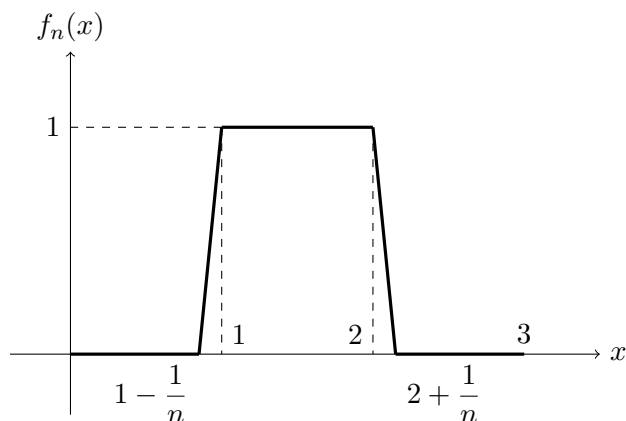
H-Prépa : exercice 24. Lire exercices 6 et 23.

4 - Suites et Séries de Fonctions

4 - 1 Suites de fonctions

Exercice 39. Soient $(f_n)_n$ une suite de fonctions croissantes convergeant simplement vers f sur un intervalle I de \mathbb{R} . Montrer que la fonction f est croissante sur I .

Exercice 40. Soit $(f_n)_n$ une suite de fonctions définies sur $[0, 3]$. On suppose que le graphe est le suivant :



Etudier la convergence de cette suite $(f_n)_n$ et la nature de la convergence.

Exercice 41. Pour tout entier non nul n on considère la fonction f_n de $[0, +\infty[$ dans \mathbb{R} définie par :

$$f_n(x) = \begin{cases} \left(1 - \frac{x}{n}\right)^n & x \in [0, n] \\ 0 & x \in]n, +\infty[\end{cases}$$

Montrer que la suite de fonctions $(f_n)_{n \geq 1}$ converge simplement sur $[0, +\infty[$ vers une fonction f que l'on déterminera.

H-Prépa : exercice 2.

Exercice 42. Soit f_n une fonction définie sur \mathbb{R} par : $f_n(x) = \frac{1}{1 + (x - n)^2}$.

- 1 Montrer que $(f_n)_n$ converge simplement sur \mathbb{R} vers une fonction f que l'on déterminera.
- 2 Déterminer $M_n = \sup_{x \in \mathbb{R}} |f_n(x) - f(x)|$.
- 3 La suite $(f_n)_n$ converge-t-elle uniformément sur \mathbb{R} ?
 - a Montrer que $(f_n)_n$ converge uniformément sur tout segment de \mathbb{R} .
 - b Que peut-on dire de la continuité de f ?

4 - 2 **Séries de fonctions**

Exercice 43. Soit f_n des fonctions définies sur \mathbb{R} telles que $\sum f_n$ converge simplement sur l'intervalle J de \mathbb{R} . On pose $f = \sum_{n=0}^{\infty} f_n$. Montrer que :

- 1 Si, pour tout n , les fonctions f_n sont croissantes sur J alors f est croissante sur J .
- 2 On suppose que J est centré en 0. Si, pour tout n , les fonctions f_n sont paires alors f est paire.
- 3 On suppose que $J = \mathbb{R}$. Si, pour tout n , les fonctions f_n sont périodiques de même période T , alors f est périodique de période T .

Exercice 44. 1 Chercher le domaine de définition des fonctions :

$$f : x \mapsto \sum_{n=0}^{\infty} \frac{x^n}{n!}, \quad g : x \mapsto \sum_{n=0}^{\infty} x(1-x)^n, \quad h : x \mapsto \sum_{n=1}^{\infty} \frac{(-1)^n}{\sqrt{n^2 + x^2}}.$$

2 Etudier la convergence normale de :

$$\sum_{n=1}^{\infty} \frac{1}{n^2 + x^2}, \quad \sum_{n=0}^{\infty} x(1-x)^n, \quad \sum_{n=1}^{\infty} \frac{(-1)^n}{\sqrt{n^2 + x^2}}.$$

H-Prépa : exercices 10, 11.

Exercice 45. Soit $f : x \mapsto \sum_{n=1}^{\infty} \frac{(1 - e^{-x})^n}{n^2}$. Montrer que f est définie, continue et dérivable sur $[-\ln 2, +\infty[$. Déterminer sa limite en $+\infty$.

Exercice 46. Etudier D_f , continuité, limite en $+\infty$ de $f : x \mapsto \sum_{n=0}^{\infty} x e^{-nx}$.

Exercice 47. 1 Etudier le domaine de définition de $f : x \mapsto \sum_{n=1}^{\infty} \frac{2x}{n^2 + x^2}$.
2 Montrer que f est continue sur D_f et donner ses limites aux bornes de D_f .

Exercice 48. Etude de la fonction : $f : x \mapsto \sum_{n=1}^{\infty} \frac{1}{\sinh^2(nx)}$, c'est-à-dire domaine de définition, sens de variation, continuité, limite aux bornes de son domaine de définition.

Exercice 49. Etude de ζ (fonction de Riemann) : $\zeta : x \mapsto \sum_{n=1}^{\infty} \frac{1}{n^x}$

- 1 Etudier le domaine de définition, la continuité, la limite en $+\infty$.
- 2 Montrer que ζ est de classe \mathcal{C}^∞ sur $]1, +\infty[$ et calculer ses dérivées successives.
- 3 Etude en 1^+ . Montrer que : $\zeta(x) \sim_{1^+} \frac{1}{x-1}$

H-Prépa : exercices 5, 12.

5 - Séries Entières

5 - 1 Rayon de convergence

Exercice 50. Soit $\sum a_n x^n$ une série entière de rayon $R > 0$.

- 1 Montrer que la série entière $\sum \frac{a_n}{n!} x^n$ converge pour tout x .
- 2 Déterminer le rayon de convergence de $\sum a_n^2 x^n$.
- 3 Déterminer le rayon de convergence de $\sum b_n x^n$ avec, pour tout p , $b_{2p+1} = 0$ et $b_{2p} = a_p$.

Exercice 51. Déterminer le rayon de convergence des séries entières suivantes :

$$\begin{aligned} & \sum \frac{z^n}{n^{10} + n + 1}, & \sum \frac{z^n}{4^n + 1}, & \sum (\sqrt[3]{n^3 + n + 2} - \sqrt{n^2 + 1}) z^n, \\ & \sum \left(1 + \frac{1}{\sqrt{n}}\right)^{-\sqrt[3]{n}} z^n, & \sum \frac{a^n}{1 + b^n} z^n \quad a \in \mathbb{R}^{+*}, b \in \mathbb{R}^{+*}, & \sum \sin(\sqrt{n}) z^n \\ & \sum (\ln n)^n z^n, & \sum q^{n^2} z^n, |q| < 1, & \sum \frac{z^n}{n 2^n}, & \sum \frac{z^n}{n^n}. \end{aligned}$$

Exercice 52. Déterminer le rayon de convergence des séries entières suivantes :

$$\begin{aligned} & \sum \frac{2^n}{3^n + n} z^{4n}, & \sum \frac{1}{n^2 + 1} z^{2n}, & \sum \frac{1}{2^n} z^{2^n}, & \sum a^n z^{2n+1}, a \in \mathbb{C}^*, \\ & \sum \frac{2^{n-1} z^{2n-1}}{(4n-3)^2}, & \sum \frac{z^{3n}}{8^n (n+1)}, & \sum a_n z^n, a_{2n} = 1, a_{2n+1} = \frac{1}{n}. \end{aligned}$$

5 - 2 Fonction somme

Exercice 53. Déterminer le rayon de convergence et calculer à l'intérieur du disque ouvert de convergence :

$$\begin{aligned} & \sum_0^{+\infty} n x^n, & \sum_0^{+\infty} n^2 x^n, & \dots, & \sum_1^{+\infty} (-1)^n n^2 x^{2n-1}, & \sum_1^{+\infty} \frac{x^{n-1}}{n}, & \sum_0^{+\infty} \frac{n^2 - n + 4}{n+1} x^n \\ & \sum_0^{+\infty} \frac{x^n}{n!(n+2)}, & \sum_0^{+\infty} \frac{(-x)^n}{(2n+1)(2n+3)}, & \sum_0^{+\infty} \frac{x^{2n}}{(2n)!}, & \sum_0^{+\infty} \frac{x^{3n}}{(3n)!} \end{aligned}$$

Exercice 54. Déterminer le rayon de convergence et la somme à l'intérieur du disque ouvert de convergence des séries de terme général :

$$(a + 2n + 3n^2) \frac{x^n}{n!}, \quad \left(1 + \frac{1}{2} + \dots + \frac{1}{n}\right) x^n, \quad \left(1 + \frac{1}{2!} + \dots + \frac{1}{n!}\right) x^n$$

Exercice 55. Soient a un réel > 0 et $(a_n)_n$ la suite réelle définie par :

$$a_n = \begin{cases} a^{2p} & \text{si } n = 3p, & p \in \mathbb{N} \\ -a^{2p+2} & \text{si } n = 3p + 1, & p \in \mathbb{N} \\ 0 & \text{si } n = 3p + 2, & p \in \mathbb{N} \end{cases}$$

Déterminer le rayon de convergence de $\sum a_n x^n$ et calculer sa somme à l'intérieur du disque ouvert de convergence.

H-Prépa : Exercices 2, 6, 4.

Exercice 56. Montrer que : $\ln 2 = \sum_{n=1}^{+\infty} \frac{(-1)^{n+1}}{n}$ et $\frac{\pi}{4} = \sum_{n=0}^{+\infty} \frac{(-1)^n}{2n+1}$

5 - 3 Développement en série entière

Exercice 57. Calculer le DSE (au voisinage de 0) des fonctions suivantes. Préciser l'intervalle ouvert sur lequel le résultat est obtenu.

$$\frac{1}{(x-x_0)^4}, \quad \frac{-3}{x^2+7x+10}, \quad \sin 3x + x \cos 3x, \quad \cos(x+a), \quad \sinh x,$$

$$e^{2-x^2}, \quad \sqrt[3]{8-x^3}, \quad \ln(2+x), \quad \ln(x^2+3x+2), \quad \frac{1}{4-x^4}$$

Exercice 58. Calculer le DSE (au voisinage de 0) des fonctions suivantes. Préciser l'intervalle ouvert sur lequel le résultat est obtenu.

$$\int_0^x e^{-t^2} dt, \quad \frac{x^2}{(x-1)(2-x)^2}, \quad \frac{x}{9+x^2}, \quad \ln(x+\sqrt{1+x^2}), \quad \arcsin x, \quad \frac{e^{-x}}{1-x}$$

H-Prépa : Exercices 8.

Exercice 59. Déterminer une équation différentielle vérifiée par $f : x \mapsto \frac{\arcsin x}{\sqrt{1-x^2}}$. En déduire le DSE de f et l'intervalle de convergence.

Exercice 60. On note, pour tout $n \in \mathbb{N} : a_n = \frac{n!}{1.3 \dots (2n+1)}$. On considère la SE $\sum_{n \geq 0} a_n x^{2n+1}$, et on note R son rayon, S sa somme.

- 1 Déterminer R .
- 2 Montrer que S est solution d'une équation différentielle linéaire du premier ordre, et en déduire une expression simple de S .
- 3 Etudier S au bord de l'intervalle de convergence.

5 - 4 Applications

Exercice 61. Montrer que l'application $f : \mathbb{R} \rightarrow \mathbb{R}$ définie par $f(x) = \frac{1-\cos x}{x^2}$ si $x \neq 0$ et par $\frac{1}{2}$ si $x = 0$ est de classe \mathcal{C}^∞ sur \mathbb{R} .

H-Prépa : Lire application 5.

Exercice 62. En utilisant des SE, résoudre l'équation différentielle :

$$y'(x) - 3y(x) = 0, y(0) = 1$$

H-Prépa : Exercice 15.

Exercice 63. 1 Montrer qu'il existe une solution unique f , DSE sous la forme $f(x) = 1 + \sum_{n=1}^{+\infty} a_n x^n$, de l'équation différentielle (E) :

$$2xy'' + y' - y = 0$$

Déterminer le rayon de convergence de cette série et calculer sa somme à l'aide de fonctions usuelles.

2 En déduire l'ensemble des solutions de E sur \mathbb{R}^* . On pourra effectuer le changement de fonction $y = zf(x)$. Quelles sont les solutions continues sur \mathbb{R} ? de classe \mathcal{C}^1 sur \mathbb{R} ?

Exercice 64. Soit (s_n) la suite définie par $s_0 = s_1 = 1$, et $s_n = s_{n-1} + s_{n-2}$ pour $n \geq 2$.

1 Montrer que $s_n \leq 2^n$. Montrer que le rayon de convergence R de $\sum s_n x^n$ est strictement positif.

2 Calculer $\sum_0^{+\infty} s_n x^n$ pour $|x| < R$.

3 Calculer R et s_n pour tout n .

5 - 5 **Autres exercices**

Exercice 65. Résoudre l'équation $\sum_{n=0}^{+\infty} (3n+1)^2 x^n = 0$ d'inconnue $x \in \mathbb{R}$.

Exercice 66. On considère la suite réelle $(u_n)_{n \in \mathbb{N}}$ définie par $u_0 = u_1 = 1$, et, pour tout $n \in \mathbb{N}$:
 $u_{n+2} = u_{n+1} + \frac{2}{n+2} u_n$. On note R le rayon de la SE $\sum_{n \geq 0} u_n x^n$, et S sa somme.

1 Montrer : $\forall n \in \mathbb{N}^*$, $1 \leq u_n \leq n^2$. En déduire R .

2 Former une équation différentielle linéaire du premier ordre satisfaite par S , et en déduire l'expression de S à l'aide de fonctions usuelles.

3 En déduire u_n .

H-Prépa : Exercices 14, 18.

6 - Intégrales convergentes et fonctions intégrables

Exercice 67. $\frac{1}{\sqrt{x}}$ est intégrable sur $]0, 1]$? sur $[1, +\infty[$?

Exercice 68. Soit α un réel. Etudier l'intégrabilité de $\frac{1}{(x-3)^\alpha}$ sur $]3, +\infty[$.

Exercice 69. $\frac{1}{\ln x}$ est intégrable sur $]1, 2]$? sur $[2, +\infty[$?

Exercice 70. 1 Montrer que la fonction f définie par $f(u) = ue^{-u}$ est intégrable sur $]0, +\infty[$ et calculer

$$\int_0^{+\infty} f(u) du$$

2 Montrer que la fonction g définie par $g(u) = \cos\left(\frac{1}{u}\right)$ est intégrable sur $]0, \frac{\pi}{2}[$.

Exercice 71. Etudier l'intégrabilité de :

1 $x \mapsto \frac{x - \sin x}{x^2}$ sur $]0, 2\pi]$. 2 $x \mapsto |x|(\sin x)e^{-x^2}$ sur \mathbb{R} .

3 $x \mapsto \cos^2 \frac{1}{t}$ sur $]0, 2\pi]$. 4 $x \mapsto \frac{1}{1+x^2}$ sur \mathbb{R} .

Exercice 72. Etudier la convergence des intégrales suivantes :

$$\int_0^{+\infty} t^2 e^{-t} dt, \quad \int_1^{+\infty} \frac{1}{t}(e^{\frac{1}{t}} - 1) dt, \quad \int_1^{+\infty} \frac{\sqrt[3]{t+1} - \sqrt[3]{t}}{\sqrt{t}} dt, \quad \int_0^1 \frac{dt}{\sqrt{1-t^3}}$$

Exercice 73. Etudier l'intégrabilité sur I des fonctions suivantes :

$$f(t) = \frac{1}{\sqrt{t}(t+1)}, I =]0, +\infty[; \quad g(t) = \frac{1}{t^a |\ln t|^b}, I = [2, +\infty[,]0, \frac{1}{2}], [\frac{1}{2}, 2],]0, +\infty[$$

$$f(t) = \frac{\sin 5t - \sin 3t}{t^{\frac{5}{3}}}, I =]0, +\infty[; \quad g(t) = \frac{\sin \frac{1}{t^2}}{\ln(1 + \sqrt{t})}, I =]0, +\infty[; \quad h(t) = \sin(\ln t), I =]0, 1]$$

Exercice 74. On note

$$I = \int_0^{\frac{\pi}{2}} \ln(\sin x) dx, \quad J = \int_0^{\frac{\pi}{2}} \ln(\cos x) dx, \quad K = \int_0^{\frac{\pi}{2}} \ln(\sin 2x) dx$$

1 Démontrer que les intégrales I, J, K sont absolument convergentes.

2 Démontrer que $I + J = K - \frac{\pi \ln 2}{2}$.

3 Démontrer que $J = K = I$. En déduire la valeur de I .

Exercice 75. Existence et calcul de :

$$\int_0^{+\infty} \frac{1+t^2}{1+t^4} dt \quad \int_0^{+\infty} x^n e^{-ax} dx \quad (a > 0)$$

Exercice 76. 1 Démontrer que $f(t) = \frac{\ln t}{t^2 + 1}$ est intégrable sur $]0, +\infty[$, et que

$$\int_1^{+\infty} f(t) dt = - \int_0^1 f(t) dt$$

2 En déduire : $\int_0^{+\infty} \frac{\ln t}{t^2 + a^2} dt = \frac{\pi}{2a} \ln a$, pour $a > 0$.

7 - Annales

Examen 2004

Exercice 1. Etudier la convergence des séries :

$$1 \quad \sum_{n \geq 0} n^4 e^{-n^{\frac{1}{2}}}, \quad 2 \quad \sum_{n \geq 2} \ln \left(\frac{\sqrt{n} + (-1)^n}{\sqrt{n-1}} \right).$$

Exercice 2. \mathbb{K} désigne \mathbb{R} ou \mathbb{C} . On note E l'espace vectoriel \mathbb{K}^n . Pour tout $x = (x_1, \dots, x_n)$ de E on considère les réels $N_2(x)$ et $N_\infty(x)$ définis par :

$$N_2(x) = \left[\sum_{k=1}^n |x_k|^2 \right]^{\frac{1}{2}}, \quad N_\infty(x) = \max_{1 \leq k \leq n} |x_k|.$$

- 1 Montrer que les applications N_2 et N_∞ ainsi définies sont des normes sur E .
- 2 Quelle est la définition de deux normes équivalentes ?
- 3 N_2 et N_∞ sont-elles équivalentes ? (vous justifierez votre réponse).

Exercice 3. 1 Montrer que l'application f , définie sur \mathbb{R}^3 par

$$f(x, y, z) = \left(\frac{x^2 + 2y}{1 + x^2 + y^2}, e^{xz}, z - y - x \right)$$

est continue sur \mathbb{R}^3 .

2 Montrer que l'application g , définie sur \mathbb{R}^2 par

$$g(x, t) = \frac{t^5 e^t}{1 + 2x^4 + t^4}$$

est continue sur \mathbb{R}^2 .

Exercice 4. Soit $(f_n)_n$ une suite de fonctions définies sur $[0, 1]$ par :

$$f_n(x) = \begin{cases} 1 - nx & \text{si } 0 \leq x \leq \frac{1}{n} \\ 0 & \text{si } \frac{1}{n} \leq x \leq 1 \end{cases}$$

Etudier la convergence simple et la convergence uniforme sur $[0, 1]$ de la suite de fonctions $(f_n)_n$.

Exercice 5. 1 Calculer le DSE (au voisinage de 0) de la fonction arctan. Préciser l'intervalle ouvert de convergence de la série obtenue.

2 Montrer que $\sum_{n=0}^{+\infty} \frac{(-1)^n}{2n+1} = \frac{\pi}{4}$.

Exercice 6. On considère l'équation différentielle E suivante :

$$(1 - x^2)y''(x) - 6xy'(x) - 4y(x) = 0$$

1 Montrer qu'il existe une solution f , développable en série entière au voisinage de $x = 0$, de (E) . Préciser un intervalle ouvert sur lequel f est solution de (E) .

2 Ecrire f à l'aide de fonctions usuelles.

Examen 2005

Exercice 1. (3 points)

Déterminer la nature (convergence ou divergence) des séries suivantes :

$$1 \quad \sum_{n \geq 0} \frac{1}{3^n + n^3}, \quad 2 \quad \sum_{n \geq 1} \frac{\sin(n\alpha)}{n^2}, \quad (\alpha \in \mathbb{R}), \quad 3 \quad \sum_{n \geq 2} \left(\frac{(-1)^n}{\sqrt{n} + (-1)^n} \right).$$

Exercice 2. (1,5 point)

Montrer que l'application f , définie sur \mathbb{R}^3 par

$$f(x, y, t) = \left(\frac{x^2 + 2y}{1 + x^2 + y^2}, e^{xt} \right)$$

est continue sur \mathbb{R}^3 .

Exercice 3. (1,5 point)

Soit $(f_n)_n$ une suite de fonctions définies sur $[0, 1]$ par :

$$f_n(x) = \begin{cases} 1 - nx & \text{si } 0 \leq x \leq \frac{1}{n} \\ 0 & \text{si } \frac{1}{n} \leq x \leq 1 \end{cases}$$

Etudier la convergence simple et la convergence uniforme sur $[0, 1]$ de la suite de fonctions $(f_n)_n$.

Exercice 4. (8 points)

On considère l'équation différentielle E suivante :

$$(1 - x^2)y''(x) - 6xy'(x) - 4y(x) = 0$$

On veut déterminer les solutions y_1 de E développables en série entière sur un intervalle ouvert I inclus dans $] -1, 1[$.

On note $\sum_{n=0}^{+\infty} c_n x^n$ une telle solution.

1 Déterminer la relation de récurrence vérifiée par c_n .

En déduire l'expression de c_{2p} en fonction de c_0 , et de c_{2p+1} en fonction de c_1 .

2 Quels sont les rayons de convergence de $\sum_{p=0}^{+\infty} c_{2p} x^{2p}$ et de $\sum_{p=0}^{+\infty} c_{2p+1} x^{2p+1}$?

En déduire l'expression de y_1 . Préciser I .

3 Ecrire $\sum_{p=0}^{+\infty} c_{2p} x^{2p}$ et $\sum_{p=0}^{+\infty} c_{2p+1} x^{2p+1}$ à l'aide de fonctions usuelles.

En déduire une écriture de y_1 à l'aide de fonctions usuelles.

Exercice 5. (6 points)

- 1 Calculer le DSE (au voisinage de 0) de la fonction arctan. Préciser l'intervalle ouvert de convergence de la série entière obtenue.
- 2 Déterminer le domaine de définition de cette série de fonctions.
- 3 Donner une expression plus simple de $\sum_{n=0}^{+\infty} \frac{(-1)^n}{(2n+1)2^{2n+1}}$.
- 4 Montrer que $\sum_{n=0}^{+\infty} \frac{(-1)^n}{2n+1} = \frac{\pi}{4}$.

Examen 2006

Exercice 1. (6 points)

On considère une suite bornée $(a_n)_{n \geq 1}$ de nombres complexes.

- 1 Démontrer la convergence de la série de terme général $\frac{a_n}{n(n+1)}$
- 2 Démontrer la relation suivante, où les entiers p et q vérifient $0 < p < q$:

$$\sum_{n=p}^q \frac{1}{n(n+1)} = \frac{1}{p} - \frac{1}{q+1}$$

En déduire la somme de la série de terme général $\frac{1}{n(n+1)}$ où n décrit \mathbb{N}^* .

3 Dans cette question on pose $a_n = x^n$ pour $n \geq 1$.

- a Déterminer le rayon de convergence R de la série entière de terme général $\frac{x^n}{n(n+1)}$
- b Sur un intervalle ouvert à préciser, exprimer la somme de cette série à l'aide de fonctions usuelles.
- c Calculer $\sum_{n=1}^{+\infty} \frac{(-1)^n}{n(n+1)}$

Exercice 2. (4 points)

Déterminer la nature (convergence ou divergence) des séries suivantes :

- 1 $\sum_{n \geq 0} \frac{1}{5^n + n^5}$,
- 2 $\sum_{n \geq 1} \frac{n^n}{2n^2}$,
- 3 $\sum_{n \geq 2} \ln \left(1 + \frac{(-1)^n}{\sqrt{n}} \right)$.

Exercice 3. (5 points) Etude d'une série dont le terme général est le reste d'une série convergente.

Soit n_0 un entier naturel fixé. Soit $\sum_{n \geq n_0} a_n$ une série convergente. On définit pour n entier naturel supérieur

ou égal à n_0 , r_n son reste de rang n : $r_n = \sum_{k=n+1}^{+\infty} a_k$.

1 On pose pour $n \geq 0$, $a_n = \frac{1}{2^n}$.

Calculer r_n puis montrer que $\sum_{n \geq 0} r_n$ converge et calculer sa somme.

2 On pose pour $n \geq 1$, $a_n = \frac{1}{n^2}$.

a Montrer que pour tout entier naturel non nul n on a :

$$\frac{1}{n+1} \leq r_n \leq \frac{1}{n+1} + \frac{1}{(n+1)^2}$$

b Donner alors un équivalent de (r_n) lorsque n est au voisinage de $+\infty$.

Que peut-on en conclure sur la nature de la série $\sum_{n \geq 1} r_n$?

Exercice 4. (2 points)

1 Montrer que l'application f , définie sur \mathbb{R}^3 par

$$f(x, y, t) = (1 + x^2 + y^2, e^{xt})$$

est continue sur \mathbb{R}^3 .

2 On considère une matrice A_θ définie par :

$$A_\theta = \begin{pmatrix} \cos \theta & -\sin \theta & 0 \\ \sin \theta & \cos \theta & 0 \\ 0 & 0 & 1 \end{pmatrix}$$

Quelle est la limite, quand θ tend vers $\frac{\pi}{3}$, de la fonction $f : \theta \rightarrow A_\theta$?

Exercice 5. (3 points)

1 Développer en série entière sur un intervalle à préciser : $\int_0^x e^{-t^2} dt$.

2 Calculer $\sum_{n=0}^{+\infty} \frac{\sin(n\theta)}{2^n}$. On précisera pour quelles valeurs de θ ce calcul est valide.

Examen 2007

Exercice 1.

Déterminer, quand cela est possible, la nature (convergence ou divergence) des séries de terme général u_n vérifiant :

$$\begin{array}{ll} \mathbf{1} & \frac{(-1)^n}{n^{\frac{2}{3}}} - \frac{1}{n} + o\left(\frac{1}{n}\right), \\ \mathbf{2} & \frac{(-1)^n}{\sqrt{n}} + O\left(\frac{1}{n^{\frac{3}{2}}}\right), \\ \mathbf{3} & \frac{(-1)^n}{\sqrt{n}} + o\left(\frac{1}{\sqrt{n}}\right), \\ \mathbf{4} & \frac{(-1)^n}{n^{\frac{2}{3}}} - \frac{(-1)^n}{n} + o\left(\frac{1}{n^{\frac{4}{3}}}\right). \end{array}$$

Exercice 2.

Montrer que l'application f , définie sur \mathbb{R}^2 par :

$$f(x, y) = \left(\sqrt{x^2 + y^2}, \cos(xy) \right)$$

est continue sur \mathbb{R}^2 .

Exercice 3.

Développer en série entière sur un voisinage de 0 à préciser les fonctions suivantes :

$$\mathbf{1} \quad x \mapsto \frac{1}{(x-2)(x+1)}, \quad \mathbf{2} \quad x \mapsto \int_0^x \sin(t^2) dt.$$

Exercice 4. Etude de la fonction : $f : x \mapsto \sum_{n=1}^{+\infty} \frac{1}{\sinh(nx)}$.

Pour $n > 0$ on note f_n la fonction définie sur \mathbb{R}^* par $f_n(x) = \frac{1}{\sinh(nx)}$.

- 1 Déterminer le domaine de définition de f .
- 2 Etudier la parité de f .
- 3 Etudier le mode de convergence de la série de fonctions $\sum f_n$ sur $]0, +\infty[$.
- 4 Montrer que f est continue sur $]0, +\infty[$.
- 5 Etudier la limite de f en $+\infty$.
- 6 Déterminer la limite de f en 0^+ .
- 7 Faire le tableau de variation de f .

Exercice 5.

1 Rayon de convergence et somme de la série entière : $\sum_{n \geq 0} (n^3 + 1)x^n$

2 Calculer $A = \sum_{n=1}^{+\infty} \frac{1}{2^n n}$.

Indication : on pourra introduire une série entière dont on calculera la somme.

Exercice 6. Hors barème.

1 Soient $x \in]-1, 1[$ et $n \in \mathbb{N}$. Soient f_n les fonctions de la variable réelle t définies sur $[0, 1]$ par :

$$f_n(t) = \frac{(tx)^n}{\sqrt{1+t^2}}$$



Montrer que la série de fonctions $\sum f_n$ est définie sur $[0, 1]$ et converge normalement sur cet intervalle.

2 Notons $a_n = \int_0^1 f_n(t) dt$.

A l'aide d'un encadrement de a_n déterminer le rayon de convergence R de la série entière $\sum a_n x^n$.

3 Montrer que :

$$\forall x \in]-R, R[\quad \sum_{n=0}^{+\infty} \left(\int_0^1 \frac{t^n}{\sqrt{1+t^2}} dt \right) x^n = \int_0^1 \frac{1}{(1-tx)\sqrt{1+t^2}} dt$$

 <p>UNIVERSITÉ BORDEAUX 1 Sciences Technologies</p> <p>DISVE Pôle Licence</p>	<p>ANNEE UNIVERSITAIRE 2009/20010 SESSION 1 D'AUTOMNE</p> <p>PARCOURS : CODE UE : CPI 317</p> <p>Epreuve : Analyse</p> <p>Date : 7 Janvier 2010 Heure : 14h Durée : 3h</p> <p>Documents : Non autorisés.</p> <p>Epreuve de : Mme Ag. Bachelot</p>	 <p>Département D L Licence</p>
--	---	---

Le candidat attachera la plus grande importance à la clarté, à la précision et à la concision de la rédaction. Le barème est indicatif.

Exercice 1. 5 points

- 1 Montrer que la fonction $f : (x, y, z) \mapsto (x^2 + yx, e^z)$ est continue sur \mathbb{R}^3 .
- 2 Soit $n \in \mathbb{N}^*$. Soient B et C deux éléments de $\mathcal{M}_{n \times n}(\mathbb{R})$, l'ensemble des matrices carrées d'ordre n à coefficients réels.
 - a Montrer que l'application g définie sur $\mathcal{M}_{n \times n}$ par : $g(M) = BMC$ est continue sur $\mathcal{M}_{n \times n}$.

Dans la suite de l'exercice on considère $n = 3$.

- b Soit k un entier non nul. Soit M_k la matrice de $\mathcal{M}_{3 \times 3}$ définie par :

$$M_k = \begin{pmatrix} \left(-\frac{1}{2}\right)^k & 0 & 0 \\ 0 & e^{-2k} & 0 \\ 0 & 0 & 1 \end{pmatrix}$$

Montrer que la suite $(M_k)_k$ converge. Déterminer sa limite.

- c Montrer que la suite $(BM_kC)_k$ converge. Déterminer sa limite.

Exercice 2. Cet exercice n'est que pour les Concours Chimie. 5 points

- 1 Soit α un réel. Démontrer que l'intégrale $\int_0^1 \frac{dt}{t^\alpha}$ converge si, et seulement si, $\alpha < 1$. Dans ce cas calculer $\int_0^1 \frac{dt}{t^\alpha}$.
- 2 Montrer que la fonction f définie sur $[0, +\infty[$ par $f(x) = \frac{\sqrt{x}}{(1+x)^2}$ est intégrable sur $[0, +\infty[$.
Calculer $I = \int_0^{+\infty} f(x) dx$. (On pourra faire un changement de variable.)
- 3 Montrer que la fonction g définie sur $]0, +\infty[$ par $g(x) = \frac{\ln x}{1+x^2}$ est intégrable sur $]0, +\infty[$.



DISVE
Pôle Licence

ANNEE UNIVERSITAIRE 2009/20010
SESSION 2 DE PRINTEMPS

PARCOURS :

Date : 6 mars 2010

Epreuve : Analyse

Documents : Non autorisés

Epreuve de : Mme Ag. Bachelot

CODE UE : CPI317

Heure : 8h30

Durée : 3h



Exercice 1. On considère les séries suivantes de terme général noté u_n . Dire, en le justifiant, si elles sont convergentes, divergentes ou si on ne peut pas déterminer leur nature.

1 $u_n = \frac{(-1)^n}{\sqrt{n}} + O\left(\frac{1}{n^2}\right)$

2 $u_n = \frac{(-1)^n}{\sqrt{n}} + o\left(\frac{1}{n^{\frac{3}{2}}}\right)$

3 $u_n = \frac{(-1)^n}{\sqrt{n}} + O\left(\frac{1}{n}\right)$

4 $u_n = \frac{1}{\sqrt{n}} + o\left(\frac{1}{\sqrt{n}}\right)$

Exercice 2.

On considère l'équation différentielle E suivante :

$$(1 - x^2)y''(x) - 6xy'(x) - 4y(x) = 0$$

On veut déterminer les solutions y_1 de E développables en série entière sur un intervalle ouvert I inclus dans $] -1, 1[$.

On note $\sum_{n=0}^{+\infty} c_n x^n$ une telle solution.

1 Déterminer la relation de récurrence vérifiée par c_n .

En déduire l'expression de c_{2p} en fonction de c_0 , et de c_{2p+1} en fonction de c_1 .

2 Quels sont les rayons de convergence de $\sum_{p=0}^{+\infty} c_{2p} x^{2p}$ et de $\sum_{p=0}^{+\infty} c_{2p+1} x^{2p+1}$?

En déduire l'expression de y_1 . Préciser I .

3 Ecrire $\sum_{p=0}^{+\infty} c_{2p} x^{2p}$ et $\sum_{p=0}^{+\infty} c_{2p+1} x^{2p+1}$ à l'aide de fonctions usuelles.

En déduire une écriture de y_1 à l'aide de fonctions usuelles.

Exercice 3.

1 Calculer le DSE (au voisinage de 0) de la fonction $\ln(1+x)$. Préciser l'intervalle ouvert de convergence de la série entière obtenue.

2 Déterminer le domaine de définition de cette série de fonctions.

- 3 Donner une expression plus simple de $\sum_{n=1}^{+\infty} \frac{(-1)^{n+1}}{n2^n}$.
- 4 (Pas pour les concours chimie) Montrer que $\sum_{n=1}^{+\infty} \frac{(-1)^{n+1}}{n} = \ln 2$.

Exercice 4. (Pour les concours chimie)

Déterminer si l'intégrale suivante est convergente :

$$\int_{-\infty}^{+\infty} \frac{1}{1+x^2} dx$$

Si oui la calculer.

Exercice 5. D'après Concours Deug 2007 Partie I

1 Premiers résultats :

- a Déterminer le rayon de la série entière $\sum_{n \geq 1} \frac{\ln n}{n} x^n$.
- b Montrer que la suite de terme général $\frac{\ln n}{n}$ est monotone à partir d'un certain rang que l'on précisera. En déduire la nature de la série $\sum_{n \geq 1} \frac{(-1)^n \ln n}{n}$.
- c Déterminer la nature de $\sum_{n \geq 1} \frac{\ln n}{n}$. La série $\sum_{n \geq 1} \frac{(-1)^n \ln n}{n}$ est-elle absolument convergente ?
- d Calculer $\int_a^b \frac{\ln t}{t} dt$ où a et b sont des réels strictement positifs.

2 Soient n_0 un entier et f une fonction continue et décroissante sur $[n_0, +\infty[$.

- a Montrer que pour tout entier $k \in [n_0, +\infty[$, on a $f(k+1) \leq \int_k^{k+1} f(t) dt \leq f(k)$.
- b En déduire un encadrement de $\sum_{k=n_0+1}^n f(k)$.

3 Détermination d'un équivalent de la somme partielle :

a Expliciter cet encadrement dans le cas où f est la fonction $x \mapsto \frac{\ln x}{x}$ (on calculera les intégrales et on précisera n_0).

b Déterminer, en justifiant, un équivalent simple de $\sum_{k=1}^n \frac{\ln k}{k}$ lorsque n est au voisinage de $+\infty$ (on l'exprimera à l'aide de $\ln n$).



DISVE
Pôle Scolarité

ANNEE UNIVERSITAIRE 2010/2011
SESSION 1 D'AUTOMNE

PARCOURS :

CODE UE : CPI 317

Epreuve : Analyse

Date : 12 Janvier 2011 Heure : 14h

Durée : 3h

Documents : Non autorisés.

Epreuve de : Mme Ag. Bachelot



Le barème est indicatif. Pour tous les étudiants le sujet comporte 7 exercices indépendants.

Exercice 1. (2 points) Les assertions suivantes, dans lesquelles $\sum_{n \geq 0} u_n$ et $\sum_{n \geq 0} v_n$ désignent deux séries numériques réelles, sont-elles vraies ou fausses? En cas de réponse affirmative, vous démontrerez le résultat, et en cas de réponse négative, vous donnerez un contre-exemple.

- 1 $(u_n)_n$ converge vers 0 $\implies \sum_{n \geq 0} u_n$ converge.
- 2 $\sum_{n \geq 0} u_n$ converge $\implies (u_n)_n$ converge vers 0.
- 3 $u_n \underset{+\infty}{\sim} v_n \implies \sum_{n \geq 0} u_n$ et $\sum_{n \geq 0} v_n$ sont de même nature.
- 4 (Dans cette question $\forall n, a_n > 0$.) $\sum_{n \geq 0} u_n$ converge $\implies \left(\frac{a_{n+1}}{a_n}\right)_n$ converge vers un réel $l < 1$.

Exercice 2. (4 points)

- 1 Montrer que la fonction $f : (x, y, z) \mapsto (\sin(x^2 + yx), z^3)$ est continue sur \mathbb{R}^3 .
- 2 Montrer que la fonction f de \mathbb{R}^2 dans \mathbb{R} définie par $f(x, y) = \frac{3x^2 + xy}{\sqrt{x^2 + y^2}}$ si $(x, y) \neq (0, 0)$, et par $f(0, 0) = 0$ est continue en $(0, 0)$.
- 3 Montrer que la fonction f de $\mathbb{R}^2 \setminus \{(0, 0)\}$ dans \mathbb{R} définie par $f(x, y) = \frac{3x^2 + xy}{x^2 + y^2}$, n'est pas prolongeable par continuité en $(0, 0)$.

Exercice 3. (3,5 points)

f désigne la fonction définie sur \mathbb{R} par $f(t) = e^{-t^2}$. On pose $I = \int_0^1 f(t) dt$.

- 1 Démontrer que la fonction f est développable en série entière (on déterminera la série entière et on précisera son rayon de convergence).
- 2 En déduire avec soin que $I = \sum_{n=0}^{+\infty} \frac{(-1)^n}{n!} \frac{1}{2n+1}$.
- 3 Pour $n \in \mathbb{N}$, on pose $s_n = \sum_{k=0}^n \frac{(-1)^k}{k!} \frac{1}{2k+1}$.

Justifier que pour tout $n \in \mathbb{N}$, on a : $|s_n - I| \leq \frac{1}{(n+1)!(2n+3)}$.

- 4 En déduire un entier N_1 tel que pour $n \geq N_1$, on a $|s_n - I| \leq 10^{-6}$.

Exercice 4. (3 points) Déterminer le rayon de convergence des séries entières suivantes et calculer leur somme sur un intervalle à préciser.

$$1 \quad \sum_{n \geq 0} n^2 x^{2n} \qquad 2 \quad \sum_{n \geq 0} \frac{x^n}{n!(n+2)}$$

Exercice 5. (3,5 points) On pose, pour tout $n \in \mathbb{N}$: $u_n = \sum_{k=0}^n \frac{1}{C_n^k}$, où $C_n^k = \frac{n!}{k!(n-k)!}$.

1 Calculer $2(n+1)u_{n+1} - 2(n+1)$. En utilisant le changement d'indice défini par $j = n - k$ démontrer que :

$$\forall n \in \mathbb{N}, u_{n+1} = 1 + \frac{n+2}{2(n+1)}u_n$$

2 Déterminer le rayon de convergence de la série entière $\sum_{n \geq 0} u_n x^n$, où la variable x est réelle.

3 Notons S la somme de la série entière $\sum_{n \geq 0} u_n x^n$. C'est-à-dire, $\forall x \in]-R, R[$, $S(x) = \sum_{n=0}^{+\infty} u_n x^n$.

a Que pouvez-vous dire sur la régularité de S ?

b Donner en fonction de u_n l'expression de la dérivée de S sur un intervalle à préciser.

c Montrer que S satisfait sur $]-1, 1[$ l'équation différentielle : $(2-x)S'(x) - 2S(x) = \frac{2}{(1-x)^2}$.

Exercice 6. (3 points) On considère la fonction $\zeta : x \mapsto \sum_{n=1}^{\infty} \frac{1}{n^x}$.

1 Etudier le domaine de définition de ζ .

2 Montrer que ζ est continue sur son domaine de définition.

3 Calculer la limite en $+\infty$ de ζ .

Exercice 7. Pour les Concours Chimie. (4 points)

1 Déterminer si l'intégrale suivante est convergente, et, si oui, la calculer :

$$\int_{-\infty}^{+\infty} \frac{1}{1+x^2} dx$$

2 Montrer que la fonction g définie sur $]0, +\infty[$ par $g(t) = \frac{1}{\sqrt{t(t+1)}}$ est intégrable sur $]0, +\infty[$.

Exercice 8. Pas pour les Concours Chimie. (4 points)

Soit $(f_n)_{n \in \mathbb{N}}$ la suite de fonctions définies pour $a > 0$ par :

$$f_n(x) = \frac{n}{1+n(a+x^2)}, \quad x \in \mathbb{R}.$$

1 Montrer que pour $a > 0$, cette suite converge simplement et uniformément sur \mathbb{R} .

2 Pour $a = 0$, étudier la convergence simple et uniforme de la suite $(f_n)_{n \in \mathbb{N}}$.



DISVE
Pôle Sclolarité

ANNEE UNIVERSITAIRE 2010/2011
SESSION 2 DE PRINTEMPS

PARCOURS :

CODE UE : CPI 317

Epreuve : Analyse

Date : 5 mars 2011

Heure : 8h30

Durée : 3h

Documents : Non autorisés.

Epreuve de : **Mme Ag. Bachelot**



Exercice 1. On considère les séries suivantes de terme général noté u_n . Dire, en le justifiant, si elles sont convergentes, divergentes ou si on ne peut pas déterminer leur nature.

1 $u_n = \frac{(-1)^n}{\sqrt{n}} + o\left(\frac{1}{n^2}\right)$

2 $u_n = \frac{-1}{\sqrt{n}} + o\left(\frac{1}{n^{\frac{3}{2}}}\right)$

3 $u_n = \frac{(-1)^n}{\sqrt{n}} + o\left(\frac{1}{n}\right)$

4 $u_n = \frac{1}{n^{\frac{3}{2}}} + o\left(\frac{1}{n^2}\right)$

Exercice 2.

1 Montrer que la fonction $f : (x, y, z) \mapsto (e^{yx}, z^3)$ est continue sur \mathbb{R}^3 .

2 Montrer que la fonction f de \mathbb{R}^2 dans \mathbb{R} définie par $f(x, y) = \frac{y^2}{\sqrt{x^2 + y^2}}$ si $(x, y) \neq (0, 0)$, et par $f(0, 0) = 0$ est continue en $(0, 0)$.

3 Montrer que la fonction f de $\mathbb{R}^2 \setminus \{(0, 0)\}$ dans \mathbb{R} définie par $f(x, y) = \frac{3x + y}{\sqrt{x^2 + y^2}}$, n'est pas prolongeable par continuité en $(0, 0)$.

Exercice 3. On considère la série numérique de terme général $u_n = \frac{2}{3^n + n^3}$.

1 Démontrer que $\sum_{n \geq 0} u_n$ est convergente.

On note S la somme de la série $\sum_{n \geq 0} u_n$, et R_n son reste d'ordre n .

2 En majorant u_n par le terme général d'une série géométrique, trouver un entier naturel N tel que $|R_N| \leq 10^{-2}$.

3 En déduire l'expression d'une valeur approchée à 10^{-2} près de S .

Exercice 4. Déterminer le rayon de convergence des séries entières suivantes et calculer leur somme sur un intervalle à préciser.

1 $\sum_{n \geq 0} n^3 x^n$

2 $\sum_{n \geq 0} \frac{x^n}{n+2}$

Exercice 5.

On considère l'équation différentielle E suivante :

$$(1 - x^2)y''(x) - 6xy'(x) - 4y(x) = 0$$

On veut déterminer les solutions y_1 de E développables en série entière sur un intervalle ouvert I inclus dans $] - 1, 1[$.

On note $\sum_{n=0}^{+\infty} c_n x^n$ une telle solution.

1 Déterminer la relation de récurrence vérifiée par c_n .

En déduire l'expression de c_{2p} en fonction de c_0 , et de c_{2p+1} en fonction de c_1 .

2 Quels sont les rayons de convergence de $\sum_{p=0}^{+\infty} c_{2p} x^{2p}$ et de $\sum_{p=0}^{+\infty} c_{2p+1} x^{2p+1}$?

En déduire l'expression de y_1 . Préciser I .

3 Ecrire $\sum_{p=0}^{+\infty} c_{2p} x^{2p}$ et $\sum_{p=0}^{+\infty} c_{2p+1} x^{2p+1}$ à l'aide de fonctions usuelles.

En déduire une écriture de y_1 à l'aide de fonctions usuelles.

Exercice 6.

1 Montrer que la fonction arctan est développable en série entière au voisinage de 0. On note $\sum_{n \geq 0} a_n x^n$ la série entière obtenue.

2 Déterminer le domaine de définition de la série de fonctions $\sum_{n \geq 0} f_n$, où $f_n : x \mapsto a_n x^n$.

3 Donner, en le justifiant, une expression plus simple de $\sum_{n=0}^{+\infty} \frac{(-1)^n}{(2n+1)2^{2n+1}}$.

4 **Pas pour les Concours Chimie.** Montrer que $\sum_{n=0}^{+\infty} \frac{(-1)^n}{2n+1} = \frac{\pi}{4}$.

Exercice 7. Pour les Concours Chimie.

1 Déterminer si l'intégrale suivante est convergente, et, si oui, la calculer :

$$\int_0^{+\infty} t e^{-t} dt$$

2 La fonction g définie sur $]0, +\infty[$ par $g(t) = \frac{\sin t}{t^{\frac{3}{2}}}$ est-elle intégrable sur $]0, +\infty[$?

8 - Liens

<http://www.uel.education.fr/consultation/reference/>

<http://wims.unice.fr/disciplines.html>

D'autres exercices interactifs de mathématiques :

Pour les séries entières :

<http://wims.unice.fr/wims/wims.cgi?session=K5E277C29F.3&lang=fr&module=U2%2Fanalysis%2Foefseries.fr>

Pour les séries de Fourier du semestre suivant :

<http://wims.unice.fr/wims/wims.cgi?session=K5E277C29F.3&lang=fr&module=U2%2Fanalysis%2Foeffourier.fr>

et :

<http://wims.unice.fr/wims/wims.cgi?session=K5E277C29F.3&lang=fr&module=U2%2Fanalysis%2Fdevfofr>

Pour les DL :

<http://wims.unice.fr/wims/wims.cgi?session=K5E277C29F.4&lang=fr&module=U1%2Fanalysis%2Foefaylor.fr>

et :

<http://wims.unice.fr/wims/wims.cgi?session=K5E277C29F.4&lang=fr&module=U1%2Fanalysis%2Ftaylofr>

9 - Rappels : Développements limités

Développements limités de quelques fonctions usuelles en 0 :

$$\begin{aligned}
 e^x &= 1 + \frac{x}{1!} + \frac{x^2}{2!} + \cdots + \frac{x^n}{n!} + o(x^n) \\
 \cosh(x) &= 1 + \frac{x^2}{2!} + \frac{x^4}{4!} + \cdots + \frac{x^{2n}}{(2n)!} + o(x^{2n}) \\
 \sinh(x) &= x + \frac{x^3}{3!} + \cdots + \frac{x^{2n+1}}{(2n+1)!} + o(x^{2n+1}) \\
 \cos(x) &= 1 - \frac{x^2}{2!} + \frac{x^4}{4!} + \cdots + (-1)^n \frac{x^{2n}}{(2n)!} + o(x^{2n}) \\
 \sin(x) &= x - \frac{x^3}{3!} + \cdots + (-1)^n \frac{x^{2n+1}}{(2n+1)!} + o(x^{2n+1}) \\
 (1+x)^\alpha &= 1 + \alpha x + \frac{\alpha(\alpha-1)}{2!} x^2 + \cdots + \frac{\alpha(\alpha-1)\dots(\alpha-n+1)}{n!} x^n + o(x^n) \\
 \frac{1}{1-x} &= 1 + x + x^2 + \cdots + x^n + o(x^n) \\
 \frac{1}{1+x} &= 1 - x + x^2 - x^3 + \cdots + (-1)^n x^n + o(x^n) \\
 \ln(1-x) &= -x - \frac{x^2}{2} - \cdots - \frac{x^n}{n} + o(x^n) \\
 \ln(1+x) &= x - \frac{x^2}{2} + \frac{x^3}{3} + \cdots + (-1)^{n-1} \frac{x^n}{n} + o(x^n)
 \end{aligned}$$

Opérations sur les développements limités

Soient f, g deux fonctions qui admettent en 0 les développements limités à l'ordre n suivants

$$\begin{cases} f(x) = a_0 + a_1x + a_2x^2 + \cdots + a_nx^n + o(x^n) \\ g(x) = b_0 + b_1x + b_2x^2 + \cdots + b_nx^n + o(x^n) \end{cases}$$

On note $P(x) = a_0 + a_1x + a_2x^2 + \cdots + a_nx^n$ et $Q(x) = b_0 + b_1x + b_2x^2 + \cdots + b_nx^n$

- $f + g$ admet en 0 un développement limité à l'ordre n donné par :

$$(f + g)(x) = f(x) + g(x) = P(x) + Q(x) + o(x^n)$$

- fg admet en 0 un développement limité à l'ordre n donné par :

$$(f.g)(x) = f(x).g(x) = R(x) + o(x^n)$$

où $R(x)$ s'obtient en développant le produit des polynômes $P(x).Q(x)$ et en ne gardant que les termes de degré inférieur ou égaux à n .

- Si $b_0 \neq 0$ alors $\frac{f}{g}$ admet en 0 un développement limité à l'ordre n que l'on obtient en effectuant la division suivant les puissances croissantes de x jusqu'à l'ordre n de $a_0 + a_1x + a_2x^2 + \cdots + a_nx^n$ par $b_0 + b_1x + b_2x^2 + \cdots + b_nx^n$.

- Si $b_0 = 0$ alors $f \circ g$ admet en 0 un développement limité à l'ordre n . On a :

$$(f \circ g)(x) = a_0 + a_1[Q(x)] + a_2[Q^2(x)] + \cdots + a_n[Q^n(x)] + o(x^n)$$

où $[Q^k(x)]$ désigne le polynôme obtenu en développant le produit $Q^k(x)$ et en ne gardant que les termes de degré inférieur ou égaux à n .

Exemple : Développements limités en 0 à l'ordre 5 :

$$\begin{cases} f(x) = e^x = 1 + \frac{x}{1!} + \frac{x^2}{2!} + \frac{x^3}{3!} + \frac{x^4}{4!} + \frac{x^5}{5!} + o(x^5) \\ g(x) = \sin x = x - \frac{x^3}{3!} + \frac{x^5}{5!} + o(x^5) \end{cases}$$

On note $P(x) = 1 + \frac{x}{1!} + \frac{x^2}{2!} + \frac{x^3}{3!} + \frac{x^4}{4!} + \frac{x^5}{5!}$ et $Q(x) = x - \frac{x^3}{3!} + \frac{x^5}{5!}$

• $e^x + \sin x = 1 + 2x + \frac{x^2}{2!} + \frac{x^4}{4!} + 2\frac{x^5}{5!} + o(x^5)$

• $e^x \sin x = \left[1 + \frac{x}{1!} + \frac{x^2}{2!} + \frac{x^3}{3!} + \frac{x^4}{4!} + \frac{x^5}{5!} \right] \left[x - \frac{x^3}{3!} + \frac{x^5}{5!} \right] + o(x^5)$
 $= \left[x - \frac{x^3}{3!} + \frac{x^5}{5!} \right] + x \left[x - \frac{x^3}{3!} \right] + \frac{x^2}{2!} \left[x - \frac{x^3}{3!} \right] + \frac{x^3}{3!} [x] + \frac{x^4}{4!} [x] + o(x^5)$
 $= x + x^2 + \frac{1}{3}x^3 - \frac{1}{30}x^5 + o(x^5)$

• $(\exp \circ \sin)x = e^{\sin x}$
 $= e^{x - \frac{x^3}{3!} + \frac{x^5}{5!} + o(x^5)}$
 $= 1 + \left[x - \frac{x^3}{3!} + \frac{x^5}{5!} \right] + \frac{1}{2} \left[x - \frac{x^3}{3!} + \frac{x^5}{5!} \right]^2 + \frac{1}{3!} \left[x - \frac{x^3}{3!} + \frac{x^5}{5!} \right]^3$
 $+ \frac{1}{4!} \left[x - \frac{x^3}{3!} + \frac{x^5}{5!} \right]^4 + \frac{1}{5!} \left[x - \frac{x^3}{3!} + \frac{x^5}{5!} \right]^5 + o(x^5)$
 $= 1 + \left[x - \frac{1}{6}x^3 + \frac{x^5}{5!} \right] + \frac{1}{2} \left[x^2 - \frac{1}{3}x^4 \right] + \frac{1}{6} \left[x^3 - \frac{1}{2}x^5 \right] + \frac{1}{24} [x^4] + \frac{1}{120} [x^5] + o(x^5)$
 $= 1 + x + \frac{1}{2}x^2 - \frac{1}{8}x^4 - \frac{1}{15}x^5 + o(x^5)$

Exemple : Obtention du développement limité à l'ordre 5 de $\tan x$ par division suivant les puissances croissantes de x jusqu'à l'ordre 5 de $x - \frac{x^3}{3!} + \frac{x^5}{5!}$ par $1 - \frac{x^2}{2!} + \frac{x^4}{4!} + 0$.

$x - \frac{x^3}{6} + \frac{x^5}{120}$	$1 - \frac{x^2}{2} + \frac{x^4}{24}$
$- \left[x - \frac{x^3}{2} + \frac{x^5}{24} \right]$	$x + \frac{x^3}{3} + \frac{2x^5}{15}$
$= \frac{x^3}{3} - \frac{x^5}{30}$	
$- \left[\frac{x^3}{3} - \frac{x^5}{6} \right]$	
$= \frac{2x^5}{15}$	

D'où : $\tan x = x + \frac{x^3}{3} + \frac{2x^5}{15} + o(x^5)$